

C1

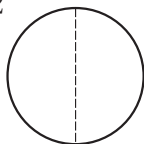
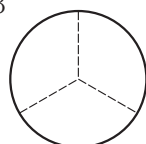
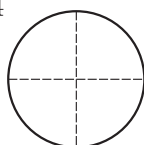
2年 算数

__年 __組 __番

まえ
名前

1 つぎの数はいくつですか。

- ① 10を67こあつめた数
- ② 100を5こ、10を2こ、1を3こあわせた数
- ③ 100を10こあつめた数
- ④ 1000を10こあつめた数
- ⑤ 2000より100小さい数

2 $\frac{1}{2}$ 、 $\frac{1}{3}$ 、 $\frac{1}{4}$ の大きさに色をぬりましょう。① $\frac{1}{2}$ ② $\frac{1}{3}$ ③ $\frac{1}{4}$ 

3 計算をしましょう。

- ① $27+16$
- ② $95+31$
- ③ $47+58$
- ④ $92+9$

4 計算をしましょう。

- ① $58-29$
- ② $50-40$
- ③ $179-88$
- ④ $105-66$

5 計算をしましょう。

- ① 2×6 ② 3×5
- ③ 4×6 ④ 5×7
- ⑤ 6×6 ⑥ 7×3
- ⑦ 8×2 ⑧ 9×3
- ⑨ 9×7 ⑩ 8×6

6 公園に子どもが24人います。とちゅうで、何人かかえたので、15人になりました。

- ① この場めんを図でかきましょう。
- ② かえた子どもは何人でしょう。

C2	2年 算数	年 組 番 名前
-----------	--------------	-------------

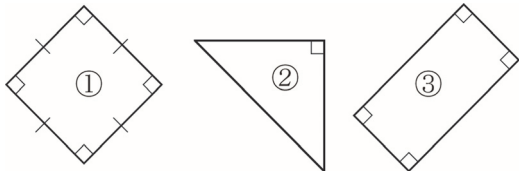
7 □に当てはまる数を書きましょう。

- ① 2L = dL
- ② 3L = mL
- ③ 4 cm = mm
- ④ 5 m = cm
- ⑤ 82mm = cm mm
- ⑥ 1 m 5 cm = cm

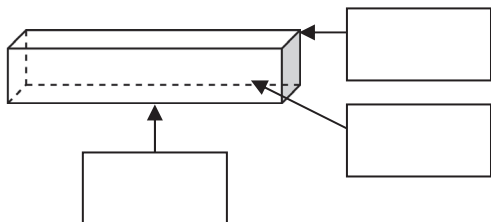
8 □に当てはまる数を書きましょう。

- ① 3時間 = 分
- ② 2日 = 時間
- ③ 1時間40分 = 分
- ④ 90分 = 時間 分

9 次の図形の名前をかきましょう。



10 □に当てはまることばをかきましょう。



11 すきなおかしをしらべました。ひょうやグラフにせいりしましょう。

あめ	ケーキ	ケーキ	ケーキ	ガム	ガム
あめ	あめ	ケーキ	ケーキ	ケーキ	ガム
あめ	あめ	あめ	ケーキ	あめ	にくまん
にくまん	ガム	ケーキ	ガム	ケーキ	だんご

①ひょうにせいりしましょう。

しゅるい					
数(人)					

②下のグラフにせいりしましょう。
すきなおかししらべ
