

A1	1年 算数	年 <input type="text"/> 月 <input type="text"/> 日 組 <input type="text"/> 番 <input type="text"/>
		名 <input type="text"/>

- 1 つぎの かずは いくつでしょう。
- ①10を4こ、1を6こあわせたかず
46
- ②10を10こあつめたかず
100
- ③100を1こ、10を2こあつめたかず
120
- ④68より4おお大きいかず
72
- ⑤93より8ちい小さいかず
85
- ⑥□+○=10にあてはまるかず
1、9 2、8 など

- 2 けいさんを しましょう。
- ①3+5=8
- ②6+9=15
- ③70+20=90
- ④80+4=84
- ⑤56+3=59
- ⑥92+7=99

- 3 けいさんを しましょう。
- ①9-2=7
- ②10-8=2
- ③13-7=6
- ④90-40=50
- ⑤86-6=80
- ⑥76-5=71

- 4 けいさんを しましょう。
- ①4+3-1=6
- ②6-2+5=9
- ③10-9+7=8

A2	1年 算数	年 月 日 年 月 日
		名 姓 名 姓

5 おとこ こ にん
 男の子が12人、女の子が9人います。

①あわせてなん人でしょう。

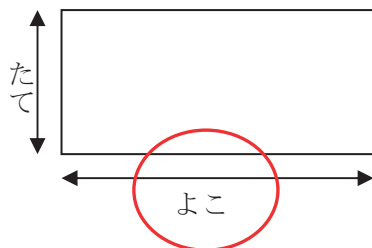
21人

②どちらがなん人おおいでしょう。

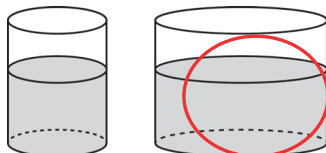
おとこの子が3人おおい

6 くらべましょう。

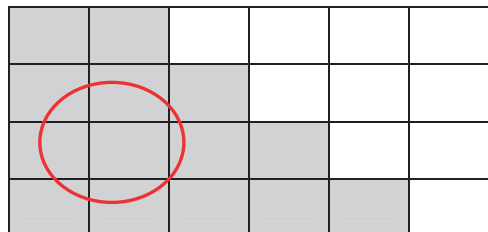
①どちらがながいでしょう。



②どちらがおおいでしょう。



③どちらがひろいでしょう。



7 なんじなんぷんでしょう。

①



2じ45ふん

②



4じ5ふん

③



11じ55ふん

8 ・と・を せんで つないで、いろいろなかたちをかきましょう。 **れい**

